

1 白い雲と黒い雲と どちらの方が、雨が降りそうだと思いますか。

A

B

① 白い雲



② 黒い雲



①の雲は、雨が降りそうだと思いますか。 \*降りそう = もうすぐ降る

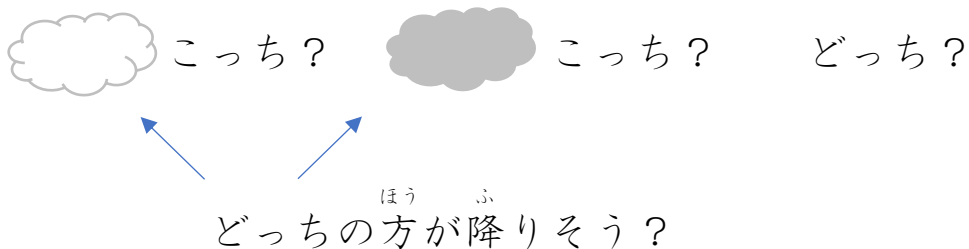
B

②の雲は、雨が降りそうだと思いますか。

③ 白い雲と黒い雲と どちらの方が、雨が降りそうだと思いますか。

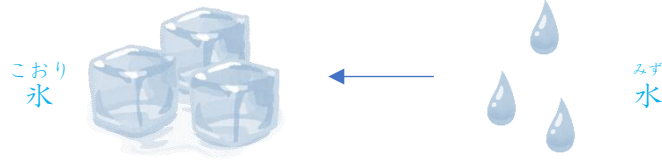
A

B



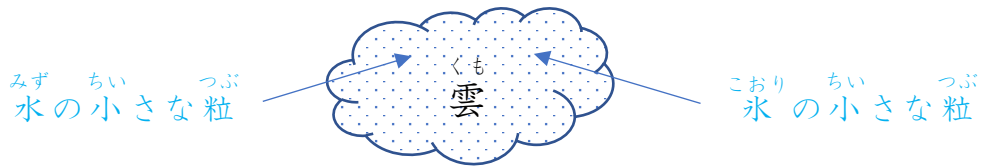
2 <sup>くも</sup> 雲は、<sup>みず</sup> 水や <sup>こおり</sup> 氷の <sup>ちい</sup> 小さな <sup>つぶ</sup> 粒で できています。

<sup>こおり</sup> 氷は、<sup>みず</sup> 水で できています。



いらすとや

<sup>くも</sup> 雲は、<sup>みず</sup> 水や <sup>こおり</sup> 氷の <sup>ちい</sup> 小さな <sup>つぶ</sup> 粒で できています



3 <sup>みず</sup> 水や <sup>こおり</sup> 氷の <sup>つぶ</sup> 粒がたくさんあると、<sup>あめ</sup> 雨が <sup>ふ</sup> 降りやすくなります。

たくさん ある  
と  
↓  
ふ  
降りやすい。

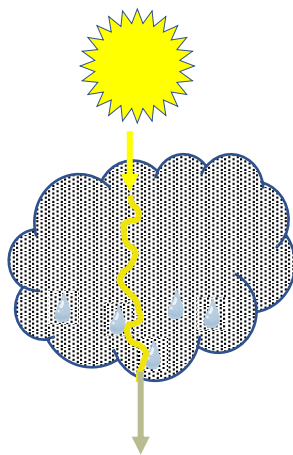


すくない  
と  
↓  
ふ  
降りにくい。




4 <sup>みず</sup> 水や <sup>こおり</sup> 氷の <sup>つぶ</sup> 粒がたくさんあると、<sup>たいよう</sup> 太陽の <sup>ひかり</sup> 光が <sup>とお</sup> 通りにくくなります。

たくさんあると  
とお  
通りにくい



すくないと  
とお  
通りやすい



5 <sup>ひかり</sup> 光が <sup>とお</sup> 通りにくくなるから、

<sup>くも</sup> 雲は <sup>くろ</sup> 黒く <sup>み</sup> 見えます。

<sup>くろ</sup> 黒く <sup>み</sup> 見えます。



いらすとや