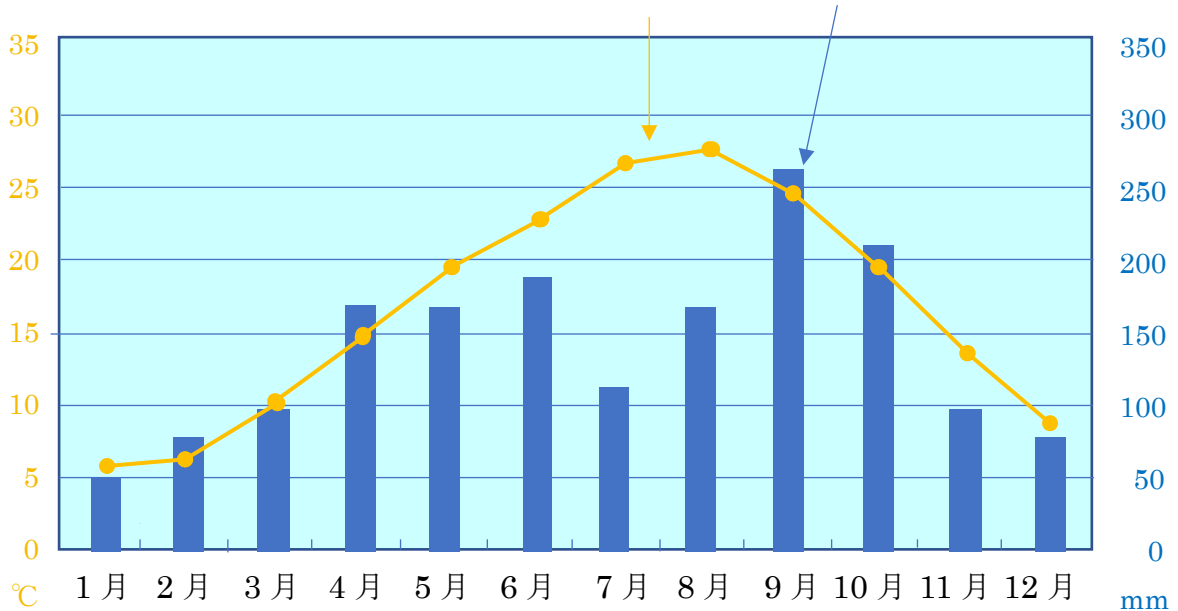


【1】 下のグラフは、東京の月別平均気温と降水量です。

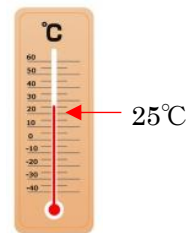


空気が何度あるかを「気温」といいます。

毎日の気温を足して、その日数で割ります。

それが「平均気温」です。

$$(20+26+21+23+27+22) \div 6 = 23.16$$



① 最も平均気温が低いのは、何月ですか。

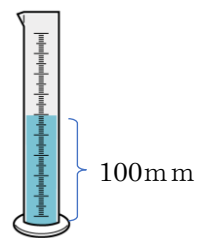
② 最も平均気温が高いのは、何月ですか。

雨が降った量を「降水量」といいます。

グラフはその月に降った雨を全部足した量です。

③ 最も降水量が多いのは、何月ですか。

④ 最も降水量が少ないのは、何月ですか。



さむ じ き ふゆ
寒い時期を「冬」といいます。

あつ じ き なつ
暑い時期を「夏」といいます。

ふゆ なつ あいだ じ き はる
冬から夏の間の時期を「春」といいます。

なつ ふゆ あいだ じ き あき
夏から冬の間の時期を「秋」といいます。

はる なつ あき ふゆ きせつ
春・夏・秋・冬のことを「季節」といいます。

きせつ しき
季節が4つあるので、「四季」といいます。

2 ぶん に 合う え の 記号 を 答え まし ょう 。

① はる はな き はじ おし と はじ
春 花が咲き始めます。虫が飛び始めます。

② なつ くさき そだ
夏 草木がどんどん育っていきます。

③ あき は あか きいろ か
秋 葉が赤や黄色になり、やがて、枯れていきます。

④ ふゆ き か ゆき ふ
冬 木が枯れます。雪が降ります。

