

ちけいず
【1】これは日本の地形図です。

ちやいろ ところ やま きみどりいろ ところ へいや
茶色の所は山です。黄緑色の所は平野です。

へいや たい ところ
平野というのは、平らな所です。

やま へいや ほう
山と平野と、どちらの方が

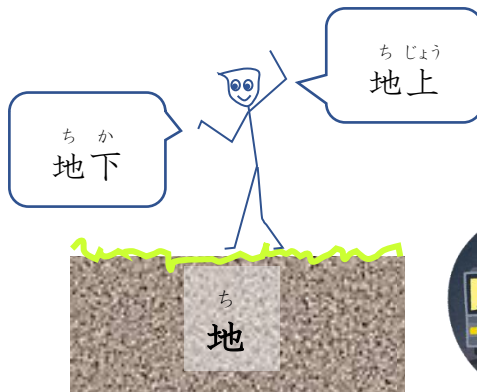
おお
多いですか。



【ことば】

ちけいず
地形図

ち
地




ちかてつ
地下鉄

いらすとや

けい
形

さんかくけい
三角形

しかくけい
四角形



ちけい
地形



素材ライブラリー

【2】日本は山が多い国です。73%が山です。

山には木がたくさんあります。

木がたくさんある所を「森林」といいます。

日本の66%が森林です。


田畑は12%で、建物がある所は、たった5%です。

【ことば】

① 森と林、二つ合わせて森林といいます。

林は、木がたくさんある所。

森は、もっとたくさんある所。



パブリックドメイン Q

② 田と畑、二つ合わせて田畑といいます。

田は米を作る所。



いらすとや

畑は野菜を作る所。



チョコデザ

野菜



いらすとや

③ 建物



パブリックドメイン Q

どっかい つぎ ぶん あ こた
【読解】 次の文は【2】と合っていますか。○か×で答えなさい。

① 日本は平野へいや すくが少ない国です。

② 日本は山おおが多い国で、66%が山です。

③ 日本は森林しんりんが多い国です。

④ 建物たてもがある所ところは、田畑たはたより少すくないです。

⑤ 山しんりんはすべて森林です。木のない山はありません。

【指導者用補助資料】

1 国土利用の現況（平成24年）

